


Grado	Semana	Ficha N°
1°	10	5


## Con los números realizamos operaciones

### 1. Escucha atentamente :



### 2. Lee y resuelve

- a) Roberto vende ropa en el mercado. En la semana vendió 14 camisas, 35 polos y 19 chompas.  
¿ Cuántas prendas de vestir vendió en total ?



C	D	U

Carlos vendió \_\_\_\_\_ prendas de vestir.



¡ No olvides sumar el número que llevaste a las decenas o a las centenas !

**Realiza estas sumas:**

$\begin{array}{r} 34 + \\ \hline 57 \end{array}$	$\begin{array}{r} 58 + \\ \hline 23 \end{array}$	$\begin{array}{r} 136 + \\ \hline 65 \\ \hline 22 \end{array}$	$\begin{array}{r} 327 + \\ \hline 230 \\ \hline 81 \end{array}$	$\begin{array}{r} 21 + \\ \hline 260 \\ \hline 153 \end{array}$
--	--	--	---	---

b) Benito tiene en su depósito 154 balones de gas. Durante el día repartió 92 balones.

¿ Cuántos balones de gas quedan en su depósito?




C	D	U

Quedan \_\_\_\_\_ balones de gas en el depósito.



¡ Aquí no olvides restar lo que te prestaste de las decenas o de las centenas !



**Realiza estas restas.**

$$\begin{array}{r} 45 \\ \underline{43} \end{array} \quad \begin{array}{r} 73 \\ \underline{59} \end{array} \quad \begin{array}{r} 131 \\ \underline{115} \end{array} \quad \begin{array}{r} 241 \\ \underline{126} \end{array} \quad \begin{array}{r} 357 \\ \underline{179} \end{array}$$

**4. Realiza la descomposición de los siguientes números.**

$$\begin{array}{c|c|c} \mathbf{C} & \mathbf{D} & \mathbf{U} \\ \hline 2 & 4 & 3 \end{array} = 2C + 4D + 3U = 200 + 40 + 3 = 243$$

Se lee : doscientos \_\_\_\_\_ y \_\_\_\_\_

$$\begin{array}{c|c|c} \mathbf{C} & \mathbf{D} & \mathbf{U} \\ \hline 1 & 7 & 9 \end{array} = 1C + 7D + 9U = \underline{\quad} + \underline{\quad} + \underline{\quad} = \underline{\quad}$$

Se lee : ciento \_\_\_\_\_ y \_\_\_\_\_.

$$\begin{array}{c|c|c} \mathbf{C} & \mathbf{D} & \mathbf{U} \\ \hline 4 & 0 & 4 \end{array} = 4C + 0D + 4U = \underline{\quad} + \underline{\quad} + \underline{\quad} = \underline{\quad}$$

Se lee : cuatrocientos cuatro.

Recuerda:  
1C = 100  
1D = 10  
1U = 1





---

# Hazlo TÚ mismo

---

**1. Lee y marca el número que corresponde.**

cuarenta y nueve

(94) (46) (49)

sesenta y siete

(76) (67) (97)

veintisiete

(72) (17) (27)

setenta y dos

(72) (27) (70)

noventa y seis

(97) (69) (96)

ciento veintiuno

(21) (121) (101)