


Grado	Semana	Ficha N°
1°	18	4

## Los números pares tienen doble y mitad

### 1. Escucha atentamente :

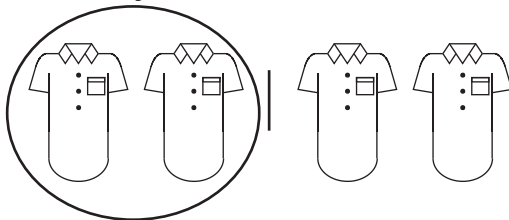


¿ Juana tiene razón de molestarse? SI  NO

## DOBLE Y MITAD

### 2. Lee y resuelve

- \* Normalmente Rosa cose 4 camisas en 1 día
- Hoy hizo la **mitad** del trabajo.



Rosa cosió \_\_\_\_\_ camisas.

$$4 = 2 + 2$$

- Este trabajo lo hizo en el **doble** de tiempo.

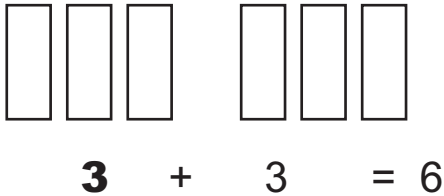
$$\boxed{1} + \boxed{1} = \boxed{2}$$

Rosa demoró \_\_\_\_\_ días.

## Aquí tienes otros ejemplos

\* Rocío vendió tres cajas de chocolates en la mañana, y en la tarde vendió el doble.

¿ Cuántas cajas de chocolates vendió por la tarde ?



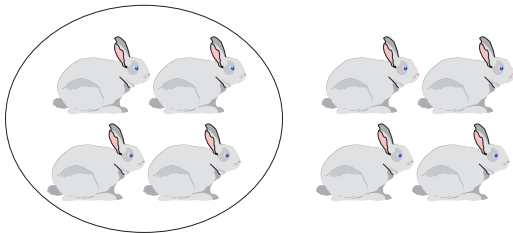
Rocío vendió por la tarde \_\_\_\_\_ cajas de chocolates.



Para hallar el doble de un número, sumamos dos veces el mismo número.

\* Julián lleva 8 conejos para venderlos en el mercado, pero sólo vende la mitad.

¿ Cuántos conejos vendió Julián ?



$$8 = 4 + 4$$

Julián vendió \_\_\_\_\_ conejos.

Para hallar la mitad de un número, descomponemos el número en dos partes iguales .



### 3. Completa



**Doble**

Si el doble de **1** es **2** ; el doble de **10** es \_\_\_\_\_

Si el doble de **2** es **4** ; el doble de **20** es \_\_\_\_\_

Si el doble de **3** es **6** ; el doble de **30** es \_\_\_\_\_

Si el doble de **4** es \_\_\_ ; el doble de **40** es \_\_\_\_\_

Si el doble de **5** es \_\_\_ ; el doble de **50** es \_\_\_\_\_



**Mitad**

Si la mitad de **2** es **1** ; la mitad de **20** es \_\_\_\_\_

Si la mitad de **4** es **2** ; la mitad de **40** es \_\_\_\_\_

Si la mitad de **6** es \_\_\_ ; la mitad de **60** es \_\_\_\_\_

Si la mitad de **8** es \_\_\_ ; la mitad de **80** es \_\_\_\_\_

### 4. Escribe los números que faltan

$$\begin{array}{r} 8 + \underline{16} \text{ es el doble de } \underline{8} \\ 8 \quad \underline{8} \text{ es la mitad de } \underline{16} \\ \hline 16 \end{array}$$

$$\begin{array}{r} 15 + \underline{\quad} \text{ es el doble de } \underline{\quad} \\ 15 \quad \underline{\quad} \text{ es la mitad de } \underline{\quad} \\ \hline \square \end{array}$$

$$\begin{array}{r} 19 + \underline{\quad} \text{ es el doble de } \underline{\quad} \\ 19 \quad \underline{\quad} \text{ es la mitad de } \underline{\quad} \\ \hline \square \end{array}$$

$$\begin{array}{r} 35 + \underline{\quad} \text{ es el doble de } \underline{\quad} \\ 35 \quad \underline{\quad} \text{ es la mitad de } \underline{\quad} \\ \hline \square \end{array}$$



---

Hazlo TÚ mismo

---



**1. Resuelve los ejercicios.**

- a) Alicia compra 46 chompas para vender.  
La mitad son para damas.  
¿ Cuántas chompas son para caballeros?

- b) Angélica tiene 37 años y su mamá el doble .  
¿ Cuántos años tiene la mamá de Angélica ?