

Grado	Semana	Ficha N°
1°	19	3

Los números nos ayudan a calcular mejor


1. Escucha atentamente



La MITAD de un número también se puede expresar así, $\frac{1}{2} = \text{mitad}$

2. Lee y resuelve

Rosa compra 8 panes. Separa la mitad para el desayuno y la mitad para la lonchera de sus hijos.
¿ Cuántos panes comen en el desayuno?




La **mitad** de 8 es _____

$$\frac{1}{2} \text{ de } 8 = \square$$

En el desayuno comen _____ panes.

* Raquel tiene 10 bolsas de arroz, pero sólo vende la mitad.
¿ Cuántas bolsas de arroz vendió ?




La **mitad** de 10 es _____

$$\frac{1}{2} \text{ de } 10 = \square$$

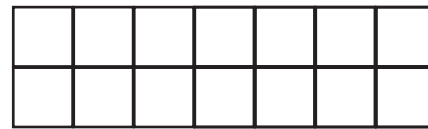
Raquel vendió _____
bolsas de arroz.

Colorea la mitad de las figuras y completa los números que faltan.



La **mitad** de 6 es _____

$$\frac{1}{2} \text{ de } 6 = \square$$



La **mitad** de 14 es _____

$$\frac{1}{2} \text{ de } 14 = \square$$

¿ Hay otra manera de hallar el DOBLE de un número ?

* Roberto vendió ayer 8 kilos de zapallo. Hoy día vendió el doble.
¿Cuántos kilos de zapallo vendió hoy ?



$$8 + 8 = \underline{\quad}$$

$$2 \times 8 = \square$$

Roberto vendió hoy _____
kilos de zapallo.

EL DOBLE de un número se puede hallar multiplicando el número por 2

* En el comedor popular Carmelitas se utilizan 6 litros de kerosene al día, pero para el menú de hoy se utilizará el doble.

¿ Cuántos litros de kerosene utilizarán ?




$$6 + 6 = \underline{\quad}$$

$$2 \times 6 = \boxed{\quad}$$

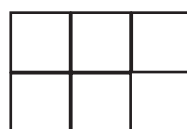
Utilizarán litros de kerosene

Dibuja y completa los números que faltan



El doble de 3 =

$$2 \times 3 = \boxed{\quad}$$



El doble de 5 =

$$2 \times 5 = \boxed{\quad}$$

3. Escribe los números que faltan

El doble de 3 = $\boxed{\quad}$ y $\frac{1}{2}$ de 6 = $\boxed{\quad}$

El doble de 8 = $\boxed{\quad}$ y $\frac{1}{2}$ de 16 = $\boxed{\quad}$

El doble de 2 = $\boxed{\quad}$ y $\frac{1}{2}$ de 4 = $\boxed{\quad}$

El doble de 15 = $\boxed{\quad}$ y $\frac{1}{2}$ de 30 = $\boxed{\quad}$

4. Escribe los números que faltan

La mitad de:

18	16	20	6	40	50	12	100
es:							

El doble de:

14	9	10	16	20	50	12	13
es:							



Hazlo TÚ mismo

Lee y resuelve .

Don Guillermo compra 40 metros de tela.
Usa la mitad para hacer pantalones y 15 metros de tela para hacer sacos .
¿ Cuántos metros de tela le quedan para hacer faldas ?