

Sin trabajo no hay progreso



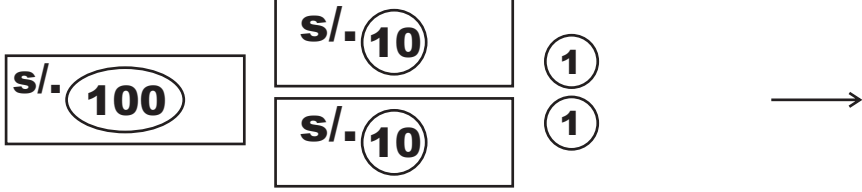
1. Observa.

$$\boxed{\text{s/. } 100} \quad \boxed{\text{s/. } 100} = 200$$

2. Forma los siguientes números.

	C	D	U
$\boxed{\text{s/. } 100}$ $\begin{matrix} \boxed{\text{s/. } 10} \\ \boxed{\text{s/. } 10} \\ \boxed{\text{s/. } 10} \\ \boxed{\text{s/. } 10} \end{matrix}$ $\begin{matrix} \textcircled{5} \\ \textcircled{1} \end{matrix}$ $= 136 \longrightarrow$	1	3	6
$\boxed{\text{s/. } 100}$ $\boxed{\text{s/. } 50}$ $\begin{matrix} \textcircled{5} \textcircled{1} \\ \textcircled{1} \textcircled{1} \textcircled{1} \end{matrix}$ $= 159 \longrightarrow$			
$\boxed{\text{s/. } 100}$ $\begin{matrix} \boxed{\text{s/. } 50} \\ \boxed{\text{s/. } 10} \\ \boxed{\text{s/. } 10} \\ \boxed{\text{s/. } 10} \end{matrix}$ $= 180 \longrightarrow$			
$\boxed{\text{s/. } 100}$ $\begin{matrix} \textcircled{5} \textcircled{1} \\ \textcircled{1} \textcircled{1} \textcircled{1} \end{matrix}$ $= 109 \longrightarrow$			

3. Escribe el número que corresponde.

	C	D	U
			
			
			

4. Dibuja con billetes tres formas de obtener 200 soles.






Restas prestando



5. Lee y resuelve.

- * Tulio vende golosinas en el mercado. Junta s/. 173 soles pero después compra más mercadería por s/. 158 soles. ¿ Con cuánto se queda ?



C	D	U	
1	7	3	-
1	5	8	
-	1	5	

$13 - 8 = 5$
 $6 - 5 = 1$

Tulio se queda con S/. _____ soles.

6. Practiquemos las restas prestando.

92 - 76

C	D	U	
		○	-

64 - 46

C	D	U	
		○	-

171 - 157

C	D	U	
		○	-

190 - 99

C	D	U	
		○	-

120 - 85

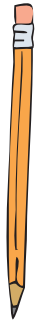
C	D	U	
		○	-

93 - 39

C	D	U	
		○	-



Hazlo TÚ mismo



★ **Practica con estas operaciones.**

$$\begin{array}{r} 73 + \\ \underline{29} \end{array}$$

$$\begin{array}{r} 124 + \\ \underline{68} \end{array}$$

$$\begin{array}{r} 105 + \\ \underline{55} \end{array}$$

$$\begin{array}{r} 98 + \\ \underline{39} \end{array}$$

$$\begin{array}{r} 140 - \\ \underline{96} \end{array}$$

$$\begin{array}{r} 91 - \\ \underline{69} \end{array}$$

$$\begin{array}{r} 173 - \\ \underline{137} \end{array}$$

$$\begin{array}{r} 46 - \\ \underline{39} \end{array}$$

★ **Escribe los números hasta 200.**

101 -

111 -

121 -

131 -

141 -

151 -

161 -

171 -

181 -

191 -

- 200