


Grado	Semana	Ficha N°
1°	7	1




PRIMARIA

# La persona responsable es digna de confianza


## 1. Escucha.



## 2. Forma los siguientes números.

		<b>C</b>	<b>D</b>	<b>U</b>
 $  \begin{matrix} 5 & 1 \\ 1 & 1 \end{matrix} = 248 \rightarrow  $	=	2	4	8
 $  \begin{matrix} 5 & 1 \\ 1 & 1 \end{matrix} = \rightarrow  $	=			
 $  = \rightarrow  $	=			


## Sumas llevando a la centena



### 3. Lee y resuelve.

- \* Estela compra los siguientes embutidos: 150g de jamonada ; 100 g de mortadela ; y 50 g de salchicha.  
¿ Cuántos gramos de embutidos compró ?

C	D	U	
①			
1	5	0	+
1	0	0	
	5	0	$5 + 5 = 10$
3	0	0	



Estela compró \_\_\_\_\_ g de embutidos.

- \* Juana compra para su bodega 1 saco de azúcar, 1 saco de arroz y 1 caja de leche.  
¿ Cuánto tiene que pagar ?



Ventas por mayor  
azúcar s/. 70  
arroz s/. 75  
leche s/. 86

$$1 + 7 + 7 + 8 = 23$$

C	D	U	
②	①		
	7	0	+
	7	5	
	8	6	$5 + 6 = 11$
2	3	1	

Juana tiene que pagar s/. \_\_\_\_\_ soles.



#### 4. Practica con estas operaciones.



No olvides  
sumar el  
número  
que llevas  
a las  
decenas  
y a las  
centenas.

C	D	U
○		
1	7	3 +
	2	0
	4	4
<hr/>		

C	D	U
○	○	
	9	8 +
1	5	0
	7	6
<hr/>		

C	D	U
○	○	
1	5	2 +
	4	7
1	0	6
<hr/>		

C	D	U
○		
	9	9 +
1	0	8
1	2	0
<hr/>		

C	D	U
○	○	
1	5	0 +
1	1	7
	5	5
<hr/>		

C	D	U
○	○	
	7	6 +
	2	7
	4	2
<hr/>		

#### 5. Completa las series.

$\overset{(-5)}{\circ}$   
75 , 70 , \_\_\_ , \_\_\_ , \_\_\_ , \_\_\_ , 45

$\overset{(-2)}{\circ}$   
120 , 118 , \_\_\_ , \_\_\_ , \_\_\_ , \_\_\_ , 108

$\overset{(+2)}{\circ}$   
201 , 203 , \_\_\_ , \_\_\_ , \_\_\_ , \_\_\_ , 213

#### 6. Ordena los número de mayor a menor.

58 - 26 - 132 - 62 - 85 - ~~231~~  
231 - \_\_\_\_\_

74 - 81 - ~~215~~ - 47 - 125 - 18  
215 - \_\_\_\_\_

---

# Hazlo TÚ mismo

---



**Practica con estas operaciones.**

$$\begin{array}{r} 32 + \\ 48 \\ \hline 79 \end{array}$$

$$\begin{array}{r} 127 + \\ 91 \\ \hline 100 \end{array}$$

$$\begin{array}{r} 274 - \\ \hline 169 \end{array}$$

$$\begin{array}{r} 191 - \\ \hline 178 \end{array}$$



**Escribe los números del 201 al 300.**

201 - \_\_\_\_\_

211 - \_\_\_\_\_

221 - \_\_\_\_\_

231 - \_\_\_\_\_

241 - \_\_\_\_\_

251 - \_\_\_\_\_

261 - \_\_\_\_\_

271 - \_\_\_\_\_

281 - \_\_\_\_\_

291 - \_\_\_\_\_ - **300**