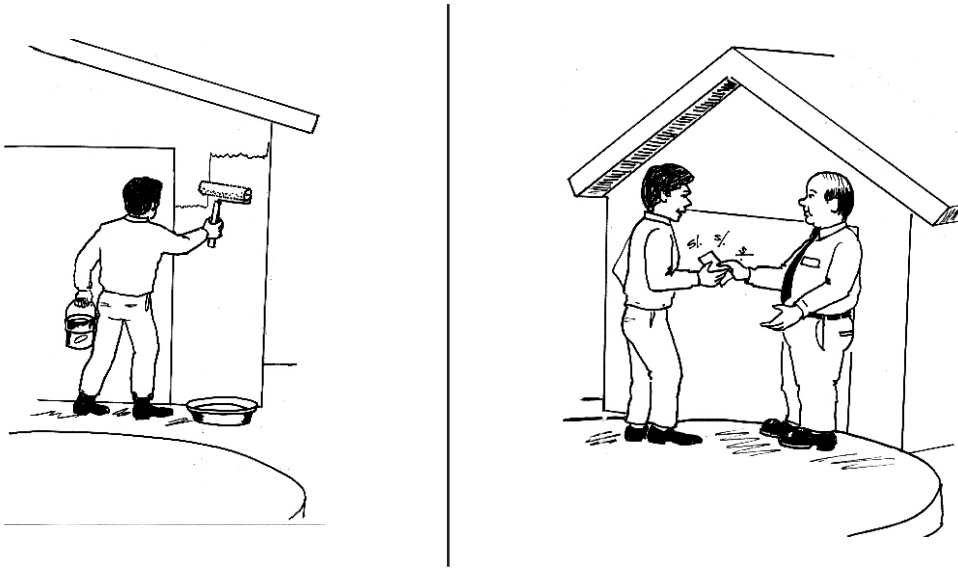
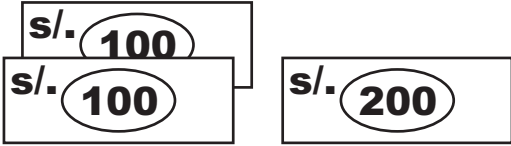
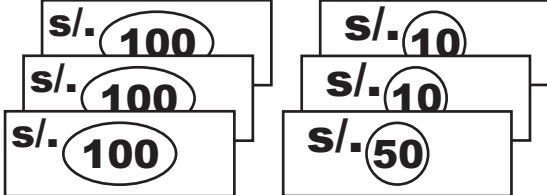
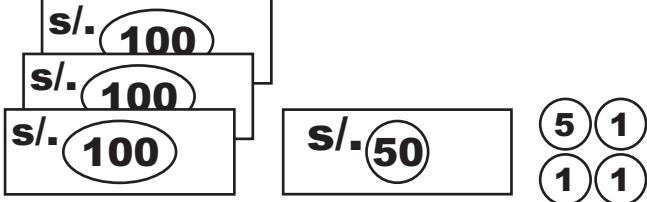


El pago es un derecho por un trabajo hecho

1. Observa.




2. Escribe otros números.

	C	D	U
 $= 400 \rightarrow$			
 $= \underline{\hspace{2cm}} \rightarrow$			
 $= \underline{\hspace{2cm}} \rightarrow$			

Restas prestando a la centena



- * Enrique cobró S/. 430 soles por pintar una casa.
Después de cobrar pagó una deuda de S/. 157 soles por la compra de materiales. ¿ Cuánto es su ganancia ?



C	D	U
3	① 2	①
4	3	0 -
1	5	7
2	7	3

La ganancia de Enrique es s/. _____ soles.

3. Practica con estas operaciones.

C	D	U
1	①	
2	5	6 -
1	7	5
—	8	1

C	D	U
	○	○
3	4	0 -
2	9	8

C	D	U
		○
	9	3 -
	7	9

C	D	U
	○	
3	1	9 -
2	9	6

C	D	U
	○	○
1	5	5 -
	8	9

C	D	U
	○	○
4	2	2 -
2	5	8

C	D	U
	○	○
2	4	3 -
1	8	7

C	D	U
		○
	9	2 -
	8	9

C	D	U
		○
4	7	3 -
2	6	7



4. Escribe los números que faltan.

301, 302, ____, ____, 305, 306, ____, 308, 309, ____

311, ____, 313, ____, ____, 316, 317, ____, 319, 320

____, 322, ____, 324, 325, ____, ____, 328, 329, ____

331, 332, ____, ____, 335, 336, ____, 338, ____, ____

341, ____, 343, ____, 345, ____, 347, ____, 349, ____

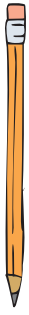
5. Escribe los números anterior y posterior.

____	298	____		____	310	____		____	333	____
____	350	____		____	190	____		____	301	____

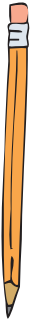
6. Escribe el signo >, <, =

10 + 50	20 + 20		10 + 7	7 + 10	
_____	<input type="checkbox"/>	_____	_____	<input type="checkbox"/>	_____

100 + 20	200 - 60		200 - 50	100 + 50	
_____	<input type="checkbox"/>	_____	_____	<input type="checkbox"/>	_____



Hazlo TÚ mismo



★ **Escribe los números del 351 al 400**

351-

361-

371-

381-

391-

★ **Dibuja billetes que sumen s/. 400 soles.**

★ **Ordena los números de menor a mayor. (↑)**

56 - 105 - 231 - 65 - 151 - 312

56 -

74 - 181 - 215 - 47 - 125 - 118

47 -
