


# Comparación de Números



## 1. Escucha atentamente :



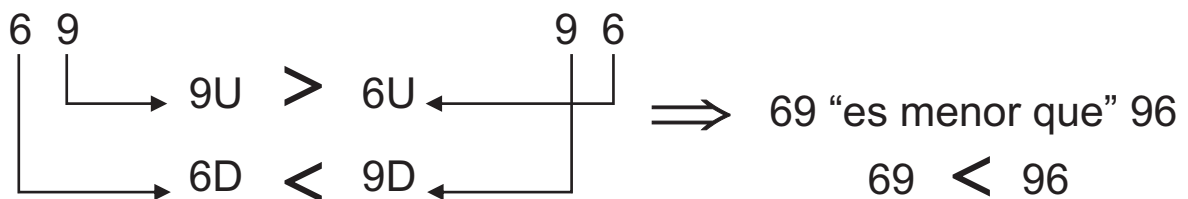
¿Dónde se da de comer a más niños ?

- a) En el comedor popular San Martín de Porres se dan 96 raciones.
- b) En el comedor popular Virgen de Lourdes se dan 69 raciones.

*Recuerda*

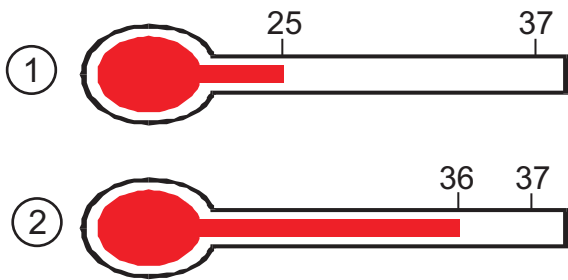


Al comparar debemos observar las unidades y decenas

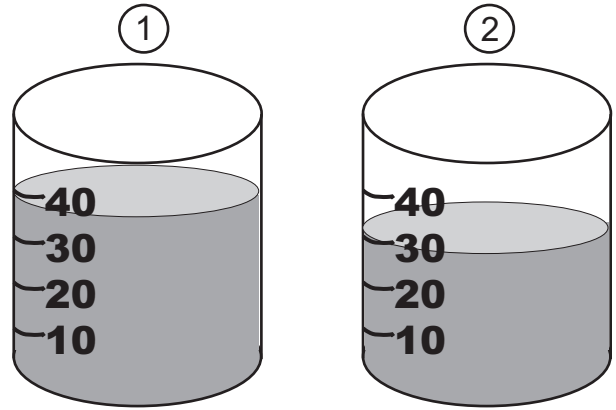


**Lee y contesta :**

a) ¿Qué termómetro tiene la temperatura más alta?



b) ¿Qué vaso tiene menos líquido?



**Completa adecuadamente**

47 \_\_\_\_\_ 53  
47 < 53

28 \_\_\_\_\_ 19  
28 > 19

99 es mayor que 86  
99 \_\_\_ 86

27 es menor que 64  
27 \_\_\_ 64

**2. Completa con < ó > entre cada par de números.**

- 37 98      92 70      73 \_\_\_\_\_ 48      78 \_\_\_\_\_ 77  
42 \_\_\_\_\_ 51      91 \_\_\_\_\_ 89      25 \_\_\_\_\_ 32      29 \_\_\_\_\_ 93

**3. Escribe los números que faltan.**

- 75 > 72 > \_\_\_\_\_ > \_\_\_\_\_ > \_\_\_\_\_ > \_\_\_\_\_ > \_\_\_\_\_ > \_\_\_\_\_  
18 < 25 < \_\_\_\_\_ < \_\_\_\_\_ < \_\_\_\_\_ < \_\_\_\_\_ < \_\_\_\_\_ < \_\_\_\_\_



## Comparación de números de 3 cifras

Compara unidades, decenas y centenas



$$\begin{array}{r}
 4 \quad 3 \quad 1 \\
 | \quad | \quad | \\
 \rightarrow 4C > 3C \leftarrow \\
 \end{array}
 \Rightarrow 431 \text{ "es mayor que" } 341$$

$$431 > 341$$

$$\begin{array}{r}
 5 \quad 8 \quad 9 \\
 | \quad | \quad | \\
 \rightarrow 5C = 5C \leftarrow \\
 \rightarrow 8D < 9D \leftarrow \\
 \end{array}
 \Rightarrow 589 \text{ "es menor que" } 597$$

$$589 < 597$$

### 4. Completa con < ó > entre cada par de números.

324	<input type="checkbox"/>	325	548	<input type="checkbox"/>	648	726	<input type="checkbox"/>	627
278	<input type="checkbox"/>	272	729	<input type="checkbox"/>	629	345	<input type="checkbox"/>	453
465	<input type="checkbox"/>	425	267	<input type="checkbox"/>	276	435	<input type="checkbox"/>	354
789	<input type="checkbox"/>	799	672	<input type="checkbox"/>	762	542	<input type="checkbox"/>	534

### 5. Escribe lo siguiente:

- a) Seis números que sean mayores que quinientos ochenta y siete .

---

- b) Seis números que sean menores que setecientos veintiuno .

---

## 6. Responde lo siguiente:



José tiene el doble de hijos que Luisa.

Abel tiene seis hijos menos que Rosa.

Luisa tiene tres hijos.

Rosa tiene cuatro hijos más que José.



¿Cuántos hijos tiene cada uno de ellos?

José

Abel

Luisa

Rosa

\_\_\_\_\_

**Hazlo TÚ mismo**

**Escribe el mayor y menor número que se pueda formar con las siguientes cifras:**

a) 3, 1, 4

menor  
1 3 4

mayor  
4 3 1

b) 2, 5, 1

\_\_\_\_\_

\_\_\_\_\_

c) 7, 6, 3

\_\_\_\_\_

\_\_\_\_\_

d) 8, 3, 5

\_\_\_\_\_

\_\_\_\_\_

e) 1, 1, 2

\_\_\_\_\_

\_\_\_\_\_

f) 4, 3, 8

\_\_\_\_\_

\_\_\_\_\_