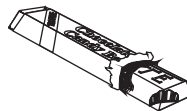



Con los números podemos realizar mediciones

(II Parte)

1. Marca los productos que pesan más.



¿ Qué unidad utilizarías para pesar estos productos?

gramos

bolsa

kilo o kilogramo



Medidas de Peso

Recuerda con nosotros

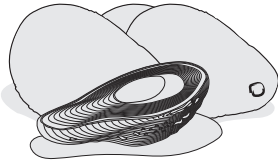
Un kilo = 1 000 gramos y se representa así : 1 kg

Medio kilo = 500 gramos y se representa así : $\frac{1}{2}$ kg

Un cuarto de kilo = 250 gramos y se representa así : $\frac{1}{4}$ kg

Nos vamos al mercado y calculamos

1 000 gramos = 1 kilo
Kilo o kilogramo = kg
gramo = g




37 Kg



28 Kg



34 Kg



26 Kg




2. ¿ Cuánto pesan...

a) ... las paltas y las cebollas ?
.....
.....

b) ... papas, zanahorias y cebollas?
.....
.....
.....


Observa los pesos de estos animales:




24 Kg



2 Kg



65 Kg






4 Kg

3. a) ¿ Cuánto pesan un carnero, un chancho y un conejo?
.....
.....
.....

b) Dos carneros, un chancho y un pato pesan 117 kg. Si se compra solamente 1 carnero. ¿ Cuántos kilos, pesarían?
.....
.....



¿ Cuánto pesa cada uno ?



4. Observa los pesos anteriores y completa:

- a) la niña pesa _____ kg
- b) el señor pesa _____ kg
- c) la niña y el señor pesan _____ kg
- d) el niño y la señora pesan _____ kg

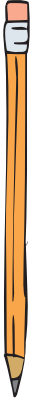
5. Lee y responde:

- a) Jesús pesa 43 kg, Juana pesa 8 kg más que Jesús y Ana pesa 2 kg menos que Jesús.
¿ Cuánto pesan los tres juntos ?.

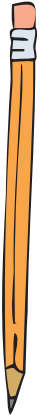
Jesús	kg	
Juana	kg	Los tres juntos pesan
Ana	kg	_____ kilos .

- b) El sábado se compró para el comedor 145 kg de arroz y durante la semana se usaron 96 kg.
¿ Cuántos kilos de arroz quedan todavía?

compraron	kg	Todavía quedan
usaron	kg	_____ kilos de
			arroz.



Hazlo TÚ mismo



1. Completa las respuestas:

- a) Julia pesa 41 kilos. El médico dice que para su edad debe pesar 52 kilos.
Julia debe subir _____ kilos.
- b) Augusto se abriga mucho en invierno. Su ropa pesa 15 kg y él pesa 74 kg.
Augusto dice: “con esta ropa peso _____ kilos” .
- c) Roberto compró 13 bolsas de naranjas y cada bolsa pesó 3 kilos.
Roberto compró _____ kilos de naranjas.

2. Completa sabiendo que 1 kilo = 1000 gramos

En medio kilo hay _____ gramos

En un cuarto de kilo hay _____ gramos

En dos cuartos de kilo hay _____ gramos

En dos medios kilos hay _____ gramos