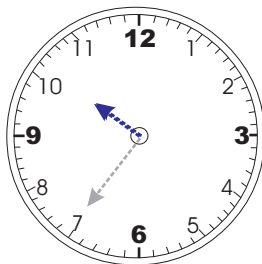


Con los números podemos realizar mediciones

(III Parte)

1. Escucha con atención:



Medidas de Tiempo

Para medir el tiempo utilizamos como unidad **LA HORA**

Recuerda con nosotros

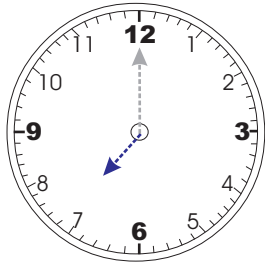
Una hora = **60** minutos y se representa así : 1 h

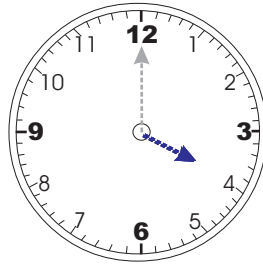
Media hora = **30** minutos y se representa así : $\frac{1}{2}$ h

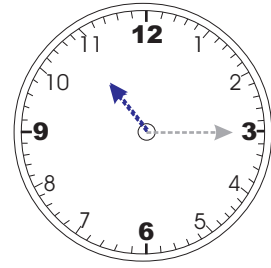
Un cuarto de hora = **15** minutos y se representa así : $\frac{1}{4}$ h

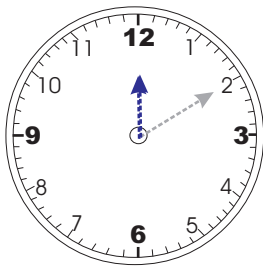
Tres cuartos de hora = **45** minutos y se representa así : $\frac{3}{4}$ h

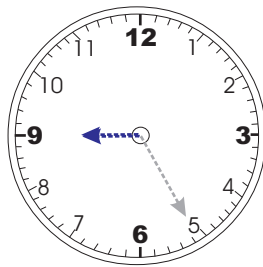
2. Escribe debajo de cada reloj la hora que marca.

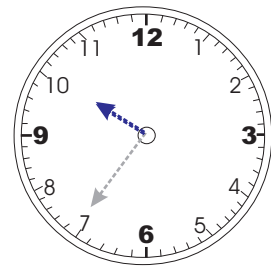






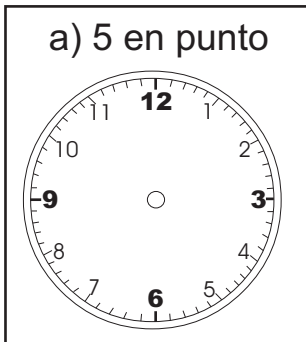




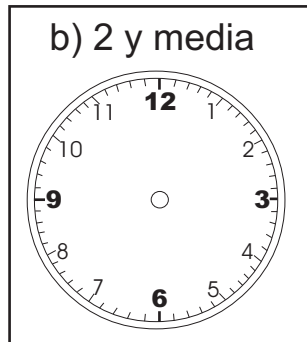


3. En los siguientes relojes marca las siguientes horas.

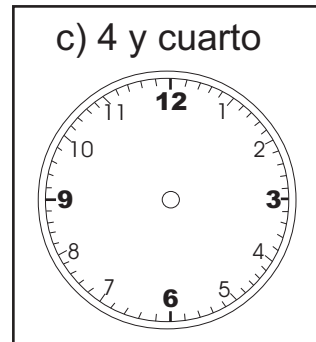
a) 5 en punto



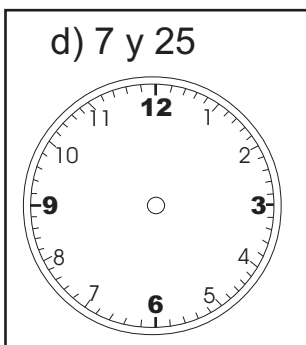
b) 2 y media



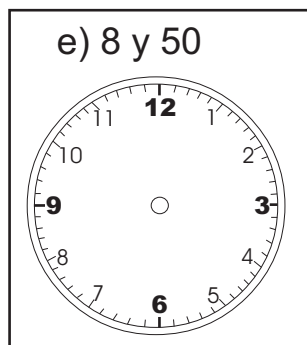
c) 4 y cuarto



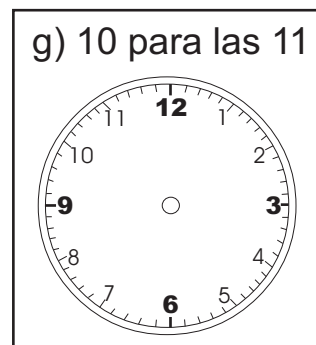
d) 7 y 25



e) 8 y 50



g) 10 para las 11



4. Lee y completa :

a) ¿ Cuántos minutos hay de 13:30 horas a 14:15 horas ?

De 13:30 horas a 14:00 horas min

De 14:00 horas a 14:15 horas min

b) ¿ Cuántos minutos hay de 17:50 horas a 18:20 horas ?

De 17:50 horas a 18:00 horas min

De 18:00 horas a 18:20 horas min

c) ¿ Cuántos minutos hay de 12:45 horas a 13:02 horas ?

De 12:45 horas a 13:00 horas min

De 13:00 horas a 13:02 horas min

d) ¿ Cuántos minutos hay de 20:10 horas a 21:05 horas ?

De 20:10 horas a 21:00 horas min

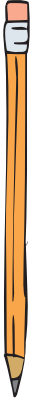
De 21:00 horas a 21:05 horas min

5. Completa la siguiente tabla.

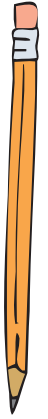
Considera que :

$1\text{h} = 60\text{ min}$	$\frac{1}{2}\text{ h} = 30\text{ min}$	$\frac{1}{4}\text{ h} = 15\text{ min}$	$\frac{3}{4}\text{ h} = 45\text{ min}$
-----------------------------	--	--	--

Horas	1	2	$\frac{1}{2}$	$\frac{3}{4}$	$2\frac{1}{2}$	$3\frac{1}{2}$	$2\frac{3}{4}$	$3\frac{3}{4}$
Minutos					150			



Hazlo TÚ mismo



1. Completa las respuestas:

Sabiendo que un día tiene 24 horas

¿ Cuántas horas hay en

- a) 1 día y 5 horas ? _____ h
- b) 2 días y 12 horas ? _____ h
- c) 3 días y 4 horas ? _____ h
- d) 4 días y 15 horas ? _____ h

Sabiendo que 1 hora tiene 60 minutos

¿ Cuántos minutos hay en

- a) 2 horas y 45 minutos ? _____ min
- b) 1 hora y 13 minutos ? _____ min
- c) 2 horas y 35 minutos ? _____ min
- d) 4 horas y 5 minutos ? _____ min